

Ensino
Fundamental 1
4º ano



DETRANPR
DEPARTAMENTO DE TRÂNSITO DO PARANÁ




EXEMPLAR DO PROFESSOR

AULA 01/16

1) Quais são os elementos do trânsito?

R: Homem, via e os veículos.



2) Qual é o elemento mais importante do trânsito?

R: Homem.

3) Quais os dois grandes grupos de tipos de vias?

R: Vias urbanas e rurais.

4) O que é via urbana?

R: São vias dentro da cidade (perímetro urbano).

5) O que é via rural?

R: São vias fora da cidade.

6) Diferencie rodovia de estrada.

R: Rodovia: pavimentada

Estrada: não pavimentada.

7) Identifique as vias abaixo:



R: Via urbana.



R: Via rural.

AULA 02/16

- 1) Faça um painel com recortes de situações de trânsito. Depois com todos os painéis discuta com os colegas sobre o que pode ser modificado para melhorar o trânsito.
- 2) Abaixo faça um desenho que reproduza o painel montado com as situações de trânsito.

2) De posse de jornais e revistas, identifique os elementos e situações de trânsito. Recorte-as e cole-as abaixo.

AULA 04/16


1) Com a ajuda do professor, faça um passeio ao redor de sua escola observando todos os elementos do trânsito e faça abaixo um desenho representando os tipos de veículos que foram observados durante o passeio.

Professor (a) adapte à sua realidade: volta para casa (trajeto).

2) De posse de jornais e revistas, encontre o maior número possível de tipos de veículos. Recorte-os e cole-os no espaço abaixo, colocando o nome de cada tipo de veículo encontrado.

AULA 05/16

1) Observe as fotos abaixo e faça uma redação sobre os problemas com o meio ambiente.



2) Após todos os colegas terminarem, faça a leitura de cada uma delas.

AULA 06/16

1) Observe as gravuras e identifique o problema ambiental causado em cada uma delas.



Poluição dos rios
por derramamento
de óleo / petróleo.



Poluição do ar
por indústria.



Poluição sonora.



Poluição do solo
por resíduos sólidos / lixo.

2) Faça, no espaço abaixo, um desenho mostrando um problema com o meio ambiente que ocorre em sua cidade.

AULA 07/16

1) De posse de jornais da sua região ou pesquisando na internet, escolha uma matéria que fale a respeito dos problemas ambientais em sua cidade ou do país. Recorte-a e cole-a abaixo. Após faça a leitura para seus colegas.

2) Faça abaixo uma resenha ou resumo da matéria que você escolheu.

AULA 08/16

1) Observe as gravuras e escreva C para a atitude correta e I para a atitude incorreta dos objetos usados no trânsito:

(C)



(I)



(I)



(I)



(C)



(C)



(I)



(C)



(I)



2) Desenhe abaixo uma situação de trânsito que esteja bem integrado ao meio ambiente.

3) Em grupo, monte um cartaz com as figuras que você coletou.

AULA 09/16

1) Observe o desenho e faça uma redação colocando algumas regras de circulação para passageiros de veículos coletivos.



2) Assinale certo ou errado para cada uma das situações abaixo:

a) Devemos aguardar a chegada do ônibus bem perto do meio fio.

CERTO ERRADO

b) Devemos esperar que o ônibus pare totalmente para que possamos entrar.

CERTO ERRADO

c) Devemos colocar a cabeça para fora da janela do ônibus.

CERTO ERRADO

d) Quando andamos de ônibus, devemos permanecer nos degraus, próximo a porta, para que possamos descer bem rápido.

CERTO ERRADO

e) Não devemos fazer brincadeiras ou bagunça dentro do ônibus, pois isto pode desviar a atenção do motorista.

CERTO ERRADO

f) Se estivermos sentados no ônibus, e houver uma pessoa idosa de pé, devemos ceder o nosso lugar.

CERTO ERRADO

AULA 10/16

1) De posse de jornais e revistas, procure situações de trânsito, onde apareçam passageiros e cole no espaço abaixo.

2) Leia as regras para passageiros abaixo, e localize as palavras grifadas no caça-palavras.

a) aguardar sobre a calçada, em fila, afastado do meio fio;

b) não viajar com o braço para fora do veículo;

c) respeitar o motorista, o cobrador e os demais passageiros;

d) crianças menores de 10 anos deverão ser transportadas nos bancos traseiros e usar individualmente, cinto de segurança ou dispositivo de segurança (cadeirinha);

I	N	D	I	V	I	D	U	A	L	M	E	N	T	E
N	A	C	C	A	D	E	I	R	I	N	H	A	A	R
V	U	A	I	B	A	Ç	C	A	O	B	D	E	E	O
E	A	D	O	M	Y	A	V	U	A	R	I	V	C	U
I	T	R	A	N	S	P	O	R	T	A	D	A	S	A
C	D	E	I	V	G	I	C	A	L	Ç	A	D	A	S
U	I	G	V	G	T	R	A	V	I	O	V	B	I	V
L	E	R	O	T	S	V	E	I	D	L	A	C	E	A
O	A	A	T	E	A	R	E	S	P	E	I	T	A	R

AULA 11/16

1) Cite três regras para passageiros de coletivos.

R: Não colocar o braço e/ou cabeça na janela, educação com o motorista e aos demais passageiros e ceder o lugar para pessoas que se enquadram nos bancos preferenciais (deficientes, idosos, gestantes, mulheres com criança de colo e obesos).

2) Cite três regras para passageiros de ocupantes de veículos.

R: Evitar conversar com o motorista para não desviar sua atenção ao volante, não colocar o braço e/ou cabeça na janela e usar o cinto de segurança.

3) Assinale certo ou errado para cada uma das situações abaixo:

a) Devemos sempre levar as crianças no colo, quando estivermos andando de automóvel.

CERTO ERRADO

b) Devemos sempre levar as crianças menores de 10 anos nos bancos dianteiros.

CERTO ERRADO

c) Sempre que estivermos em um veículo, não devemos jogar objetos ou lixo pela janela.

CERTO ERRADO

d) Sempre que formos sair de automóvel, devemos usar sempre o cinto de segurança do veículo.

CERTO ERRADO

e) Não devemos colocar a cabeça, ou qualquer parte do corpo para o lado de fora do veículo.

CERTO ERRADO

AULA 12/16

1) De posse de revistas e jornais, busque matérias que falem a respeito de trânsito. Recorte-as e cole-as abaixo. Depois, com seus colegas, leia atentamente e debata o conteúdo da matéria.

2) Abaixo, desenhe e pinte uma situação de trânsito que deve ocorrer enquanto somos passageiros.

AULA 13/16

1) Dê o significado das placas a seguir:



Proibido trânsito de bicicletas.



Parada obrigatória.



Pedestre, ande pela esquerda.



Proibido trânsito de tratores e máquinas de obras.



Pedestre, ande pela direita.



Proibido trânsito de pedestres.



Siga em frente.



Proibido trânsito de veículos de carga.



Proibido trânsito de veículos de tração animal.



Proibido estacionar.



Permitido trânsito de bicicleta.



Proibido trânsito de veículos automotores.



Dê a preferência.

AULA 14/16

1) Dê o significado das placas a seguir:



Área escolar.



Animais.



Parada obrigatória à frente.



Área com desmoroamento.



Crianças.



Passagem sinalizada de pedestres.



Animais silvestres.



Curva acentuada à esquerda.



Obras.



Trânsito de ciclista.



Semáforo à frente.



Passagem sinalizada de escolares.




Trânsito de pedestres.

AULA 15/16

1) Ligue a placa à sua identificação:

- Placa de identificação nominal de ponte
- Placa de limite de município
- Placa de identificação de rodovias
- Placa de zonas de interesse de tráfego
- Marcador de perigo
- Placa de localização de cidades

2) Enumere a primeira coluna pela segunda:



a) Placa indicativa de serviços auxiliares

b) Placa diagramada

c) Placa para pedestres

d) Placa indicativa de sentido de direção

e) Placa indicativa de distância

f) Placa educativa

AULA 16/16

1) Dê o significado das placas a seguir, colocando no parênteses (1) se for uma placa de regulamentação (2) se ela for de advertência e (3) se ela for de indicação.



(1) regulamentação.



(2) advertência.



(3) indicação.



(2) advertência.




(1) regulamentação.



(2) advertência.

PARE FORA
DA PISTA



 Pedestre
atravesse
na faixa



(3) indicação.

(2) advertência.

(1) regulamentação.

(1) regulamentação.

(3) indicação.

(3) indicação.

(2) advertência.

(1) regulamentação.

Equipe Técnica

Coordenador de Educação para o Trânsito:

Larson Orlando

Projetos Educativos:

Caroline Andreatta

Fabiano Xisto Correia

Cleusdete Cequinel

Revisão de material:

Noedy Parice Mendes Bertazzi

Luiza Cristiane Ribeiro dos Santos

Eliane Inês Sznicer Murrel

Dalva Escandolheri Alves

Projeto gráfico:

Caroline Andreatta



DETRANPR

DEPARTAMENTO DE TRÂNSITO DO PARANÁ